

Novembro/2015

## CIÊNCIAS CONTÁBEIS

### LEIA COM ATENÇÃO AS INSTRUÇÕES ABAIXO.

1. Verifique se, além deste caderno, você recebeu o Caderno de Respostas, destinado à transcrição das respostas das questões de múltipla escolha (objetivas), das questões discursivas e do questionário de percepção da prova.
2. Confira se este caderno contém as questões discursivas (D) e de múltipla escolha (objetivas), de formação geral e do componente específico da área, e as relativas à sua percepção da prova. As questões estão assim distribuídas:

Partes	Número das questões	Peso das questões no componente	Peso dos componentes no cálculo da nota
Formação Geral/Discursivas	D1 e D2	40%	25%
Formação Geral/Objetivas	1 a 8	60%	
Componente Específico/Discursivas	D3 a D5	15%	75%
Componente Específico/Objetivas	9 a 35	85%	
Questionário de Percepção da Prova	1 a 9	—	—

3. Verifique se a prova está completa e se o seu nome está correto no Caderno de Respostas. Caso contrário, avise imediatamente um dos responsáveis pela aplicação da prova. Você deve assinar o Caderno de Respostas no espaço próprio, com caneta esferográfica de tinta preta.
4. Observe as instruções de marcação das respostas das questões de múltipla escolha (apenas uma resposta por questão), expressas no Caderno de Respostas.
5. Use caneta esferográfica de tinta preta, tanto para marcar as respostas das questões objetivas quanto para escrever as respostas das questões discursivas.
6. Responda cada questão discursiva em, no máximo, 15 linhas. Qualquer texto que ultrapasse o espaço destinado à resposta será desconsiderado.
7. Não use calculadora; não se comunique com os demais estudantes nem troque material com eles; não consulte material bibliográfico, cadernos ou anotações de qualquer espécie.
8. Você terá quatro horas para responder às questões de múltipla escolha e discursivas e ao questionário de percepção da prova.
9. Quando terminar, entregue seu Caderno de Respostas ao responsável pela aplicação da prova.
10. **Atenção!** Você deverá permanecer, no mínimo, por uma hora, na sala de aplicação das provas e só poderá levar este Caderno de Prova após decorridas três horas do início do Exame.

### QUESTÃO DISCURSIVA 1



A paquistanesa Malala Yousafzai, de dezessete anos de idade, ganhou o Prêmio Nobel da Paz de 2014, pela defesa do direito de todas as meninas e mulheres de estudar. “Nossos livros e nossos lápis são nossas melhores armas. A educação é a única solução, a educação em primeiro lugar”, afirmou a jovem em seu primeiro pronunciamento público na Assembleia de Jovens, na Organização das Nações Unidas (ONU), após o atentado em que foi atingida por um tiro ao sair da escola, em 2012. Recuperada, Malala mudou-se para o Reino Unido, onde estuda e mantém o ativismo em favor da paz e da igualdade de gêneros.

Disponível em: <<http://mdemulher.abril.com.br>>.  
Acesso em: 18 ago. 2015 (adaptado).

A partir dessas informações, redija um texto dissertativo sobre o significado da premiação de Malala Yousafzai na luta pela igualdade de gêneros. Em seu texto, aborde os seguintes aspectos:

- a) direito das jovens à educação formal; (valor: 5,0 pontos)
- b) relações de poder entre homens e mulheres no mundo. (valor: 5,0 pontos)

#### RASCUNHO

1	
2	
3	
4	
5	
6	
7	
8	
9	
10	
11	
12	
13	
14	
15	

## QUESTÃO DISCURSIVA 2

Após mais de um ano de molho, por conta de uma lei estadual que coibia sua realização no Rio de Janeiro, os bailes *funk* estão de volta. Mas a polêmica permanece: os *funkeiros* querem, agora, que o ritmo seja reconhecido como manifestação cultural. Eles sabem que têm pela frente um caminho tortuoso. “Muita gente ainda confunde *funkeiro* com traficante”, lamenta Leonardo Mota, o MC Leonardo. “Justamente porque ele tem cor que não é a branca, tem classe que não é a dominante e tem moradia que não é no asfalto.”

Disponível em: <<http://www.rhbn.com.br>>. Acesso em: 19 ago. 2015 (adaptado).

Todo sistema cultural está sempre em mudança. Entender essa dinâmica é importante para atenuar o choque entre as gerações e evitar comportamentos preconceituosos. Da mesma forma que é fundamental para a humanidade a compreensão das diferenças entre povos de culturas diferentes, é necessário entender as diferenças dentro de um mesmo sistema. Esse é o único procedimento que prepara o homem para enfrentar serenamente este constante e “admirável mundo novo” do povo.

LARAIA, R. B. **Cultura**: um conceito antropológico. Rio de Janeiro: Jorge Zahar, 2008 (adaptado).

Com base nesses excertos, redija um texto dissertativo, posicionando-se a respeito do reconhecimento do *funk* como legítima manifestação artística e cultural da sociedade brasileira. (valor: 10,0 pontos)

RASCUNHO	
1	
2	
3	
4	
5	
6	
7	
8	
9	
10	
11	
12	
13	
14	
15	



## QUESTÃO 1

A alfabetização midiática e informacional tem como proposta desenvolver a capacidade dos cidadãos de utilizar mídias, bibliotecas, arquivos e outros provedores de informação como ferramentas para a liberdade de expressão, o pluralismo, o diálogo e a tolerância intercultural, que contribuem para o debate democrático e a boa governança. Nos últimos anos, uma ferramenta de grande valia para o aprendizado, dentro e fora da sala de aula, têm sido os dispositivos móveis. Como principal meio de acesso à internet e, por conseguinte, às redes sociais, o telefone celular tem sido a ferramenta mais importante de utilização social das diferentes mídias, com apropriação de seu uso e significado, sendo, assim, uma das principais formas para o letramento digital da população. Esse letramento desenvolve-se em vários níveis, desde a simples utilização de um aplicativo de conversação com colegas até a utilização em transações financeiras nacionais e internacionais.

WILSON, C. et al. **Alfabetização midiática e informacional**: currículo para formação de professores. Brasília: UNESCO, 2013 (adaptado).

A partir dessas informações, avalie as asserções a seguir e a relação proposta entre elas.

- I. Uma pessoa letrada digitalmente tem capacidade para localizar, filtrar e avaliar informação disponibilizada eletronicamente e para se comunicar com outras pessoas por meio de Tecnologias de Informação e Comunicação.

### PORQUE

- II. No letramento digital, desenvolve-se a habilidade de construir sentidos a partir de textos que se conectam a outros textos, por meio de hipertextos, *links* e elementos imagéticos e sonoros.

A respeito dessas asserções, assinale a opção correta.

- A** As asserções I e II são proposições verdadeiras, e a II é uma justificativa correta da I.
- B** As asserções I e II são proposições verdadeiras, mas a II não é uma justificativa correta da I.
- C** A asserção I é uma proposição verdadeira, e a II é uma proposição falsa.
- D** A asserção I é uma proposição falsa, e a II é uma proposição verdadeira.
- E** As asserções I e II são proposições falsas.

## QUESTÃO 2

A ideia segundo a qual todo ser humano, sem distinção, merece tratamento digno corresponde a um valor moral. O pluralismo político, por exemplo, pressupõe um valor moral: os seres humanos têm o direito de ter suas opiniões, expressá-las e organizar-se em torno delas. Não se deve, portanto, obrigá-los a silenciar ou a esconder seus pontos de vista; vale dizer, são livres. Na sociedade brasileira, não é permitido agir de forma preconceituosa, presumindo a inferioridade de alguns (em razão de etnia, raça, sexo ou cor), sustentando e promovendo a desigualdade. Trata-se de um consenso mínimo, de um conjunto central de valores, indispensável à sociedade democrática: sem esse conjunto central, cai-se na anomia, entendida como ausência de regras ou como total relativização delas.

BRASIL. **Ética e Cidadania**. Brasília: MEC/SEB, 2007 (adaptado).

Com base nesse fragmento de texto, infere-se que a sociedade moderna e democrática

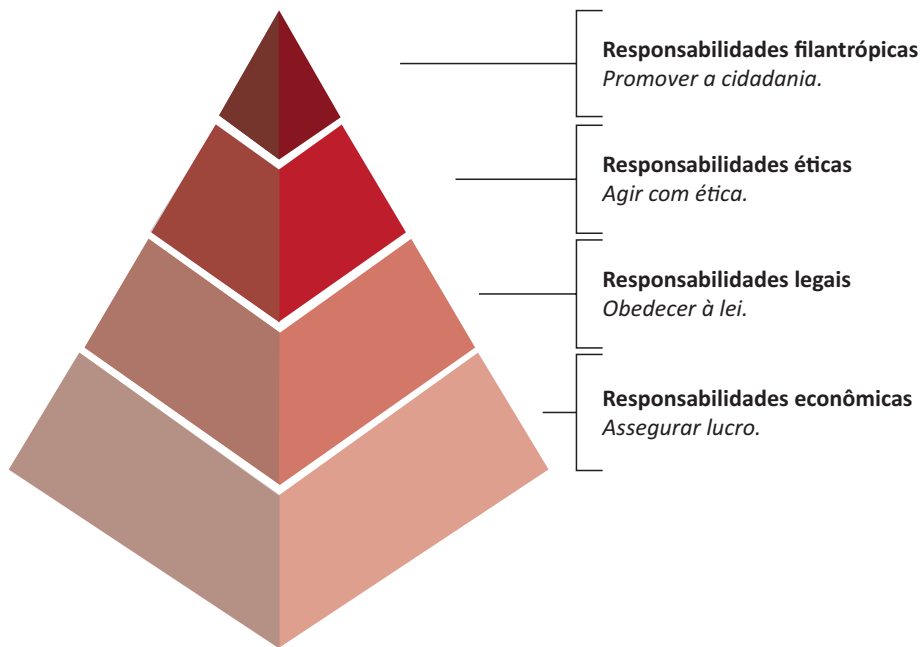
- A** promove a anomia, ao garantir os direitos de minorias étnicas, de raça, de sexo ou de cor.
- B** admite o pluralismo político, que pressupõe a promoção de algumas identidades étnicas em detrimento de outras.
- C** sustenta-se em um conjunto de valores pautados pela isonomia no tratamento dos cidadãos.
- D** apoia-se em preceitos éticos e morais que fundamentam a completa relativização de valores.
- E** adota preceitos éticos e morais incompatíveis com o pluralismo político.

## ÁREA LIVRE



**QUESTÃO 3**

A percepção de parcela do empresariado sobre a necessidade de desenvolvimento sustentável vem gerando uma postura que se contrapõe à cultura centrada na maximização do lucro dos acionistas. A natureza global de algumas questões ambientais e de saúde, o reconhecimento da responsabilidade mundial pelo combate à pobreza, a crescente interdependência financeira e econômica e a crescente dispersão geográfica das cadeias de valor evidenciam que assuntos relevantes para uma empresa do setor privado podem ter alcance muito mais amplo que aqueles restritos à área mais imediata onde se localiza a empresa. Ilustra essa postura empresarial a pirâmide de responsabilidade social corporativa apresentada a seguir.



CARROLL, A. B. The pyramid of corporate social responsibility: toward the moral management of organizational stakeholders. **Business horizons**. July-August, 1991 (adaptado).

Com relação à responsabilidade social corporativa, avalie as afirmações a seguir.

- I. A responsabilidade social pressupõe estudo de impactos potenciais e reais das decisões e atividades da organização, o que exige atenção constante às ações cotidianas regulares de uma organização.
- II. À medida que a responsabilidade econômica de uma organização diminui, a responsabilidade social corporativa aumenta e, por conseguinte, a empresa passa a agir com ética.
- III. A concessão de financiamento para atividades sociais, ambientais e econômicas é fator relevante para a redução da responsabilidade legal empresarial.

É correto o que se afirma em

- A** I, apenas.
- B** II, apenas.
- C** I e III, apenas.
- D** II e III, apenas.
- E** I, II e III.



## QUESTÃO 4

Mais de um quarto dos presos do Centro de Detenção Provisória (CDP) de Pinheiros I, na zona oeste da capital paulista, havia morado nas ruas. Há alguns anos, percebe-se progressiva mudança da população carcerária dos CDPs de São Paulo: além da tradicional parcela de acusados e condenados por crimes patrimoniais com emprego de violência ou por tráfico de drogas, passou a integrar o quadro prisional uma parcela da população sem histórico de violência, habitante, majoritariamente, das ruas do centro da cidade. Nos últimos três anos, o número de presos provenientes das ruas da região central da capital paulista aumentou significativamente; a maioria deles é presa pela prática de pequenos furtos e/ou porte de drogas. Os casos são, em geral, similares: pessoas dependentes de *crack* que vivem nas ruas e são flagradas furtando lojas ou tentando roubar transeuntes, sem o uso de armas. Como são crimes leves, os acusados poderiam aguardar a conclusão do inquérito em liberdade.

Disponível em: <<http://ibccrim.jusbrasil.com.br>>. Acesso em: 25 jul. 2015 (adaptado).

Tendo esse texto como referência e considerando a relação entre políticas públicas de segurança e realidade social nas metrópoles brasileiras, avalie as seguintes asserções e a relação proposta entre elas.

- I. A presença de policiais nas ruas das grandes cidades brasileiras atende, em geral, à solicitação de lojistas, que constantemente se queixam da presença de moradores de rua dependentes de *crack*.

### PORQUE

- II. O encarceramento de moradores de rua viciados em *crack* que praticam pequenos delitos não resolve os problemas que afetam a população, como os de segurança, violência, saúde, educação e moradia.

A respeito dessas asserções, assinale a opção correta.

- A** As asserções I e II são proposições verdadeiras, e a II é uma justificativa correta da I.
- B** As asserções I e II são proposições verdadeiras, mas a II não é uma justificativa correta da I.
- C** A asserção I é uma proposição verdadeira, e a II é uma proposição falsa.
- D** A asserção I é uma proposição falsa, e a II é uma proposição verdadeira.
- E** As asserções I e II são proposições falsas.

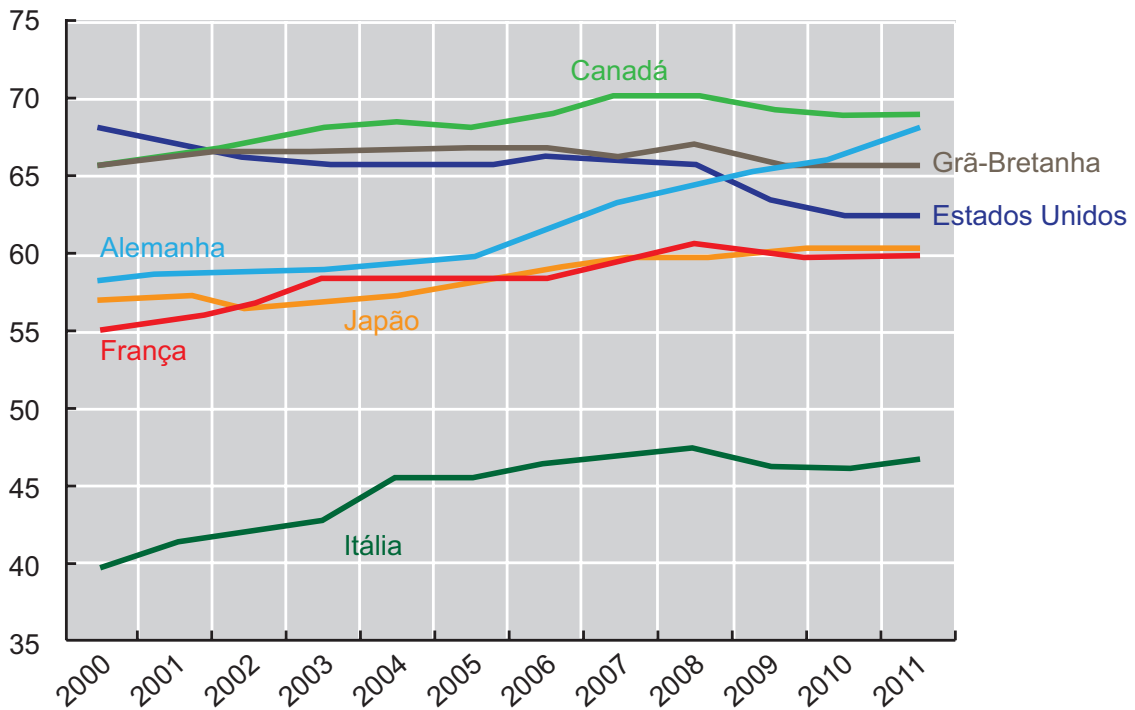
## ÁREA LIVRE



## QUESTÃO 5

As taxas de emprego para mulheres são afetadas diretamente por ciclos econômicos e por políticas de governo que contemplam a inclusão das mulheres no mercado de trabalho. O gráfico a seguir apresenta variações das taxas percentuais de emprego para mulheres em alguns países, no período de 2000 a 2011.

**Taxa percentual de emprego para mulheres de 2000 a 2011**



Disponível em: <<http://www.oecd-ilibrary.org>>. Acesso em: 19 ago. 2015 (adaptado).

Com base nesse gráfico, conclui-se que, de 2000 a 2011, a taxa de emprego para mulheres

- A** manteve-se constante na Itália.
- B** manteve-se crescente na França e no Japão.
- C** atingiu, na Grã-Bretanha, seu valor máximo em 2011.
- D** aumentou mais na Alemanha que nos demais países pesquisados.
- E** manteve-se superior a 60% no Canadá, na Alemanha e nos Estados Unidos.

## ÁREA LIVRE



## QUESTÃO 6

Hoje, o conceito de inclusão digital está intimamente ligado ao de inclusão social. Nesse sentido, o computador é uma ferramenta de construção e aprimoramento de conhecimento que permite acesso à educação e ao trabalho, desenvolvimento pessoal e melhor qualidade de vida.

FERREIRA, J. R. et al. *Inclusão Digital*. In: BRASIL. **O Futuro da Indústria de Software**: a perspectiva do Brasil. Brasília: MDIC/STI, 2004 (adaptado).

Diante do cenário *high tech* (de alta tecnologia), a inclusão digital faz-se necessária para todos. As situações rotineiras geradas pelo avanço tecnológico produzem fascínio, admiração, euforia e curiosidade em alguns, mas, em outros, provocam sentimento de impotência, ansiedade, medo e insegurança. Algumas pessoas ainda olham para a tecnologia como um mundo complicado e desconhecido. No entanto, conhecer as características da tecnologia e sua linguagem digital é importante para a inclusão na sociedade globalizada.

Nesse contexto, políticas públicas de inclusão digital devem ser norteadas por objetivos que incluam

- I. a inserção no mercado de trabalho e a geração de renda.
- II. o domínio de ferramentas de robótica e de automação.
- III. a melhoria e a facilitação de tarefas cotidianas das pessoas.
- IV. a difusão do conhecimento tecnológico.

É correto apenas o que se afirma em

- A** I e II.
- B** I e IV.
- C** II e III.
- D** I, III e IV.
- E** II, III e IV.

## QUESTÃO 7

As projeções da Associação Brasileira da Indústria de Óleos Vegetais vêm indicando, para 2020, produção entre 104 milhões e 105 milhões de toneladas de soja. A área de cultivo da soja deve aumentar cerca de 6,7 milhões de hectares, chegando, em 2023, a 34,4 milhões. Isso representa um acréscimo de 24,3% na área mensurada em 2013. No Paraná, a área de cultivo de soja pode expandir-se para áreas de outras culturas e, no Mato Grosso, para pastagens degradadas e áreas novas.

Disponível em: <<http://www.agricultura.gov.br>>. Acesso em: 19 ago. 2013 (adaptado).

Considerando esses dados e os impactos do agronegócio na reconfiguração do campo, avalie as afirmações a seguir.

- I. A expansão das áreas de monocultura de soja amplia a mecanização no campo e gera a migração de trabalhadores rurais para centros urbanos.
- II. A intensificação da monocultura de soja acarreta aumento da concentração da estrutura fundiária.
- III. A expansão da cultura de soja no Paraná e no Mato Grosso promoverá o avanço do plantio de outras culturas.

É correto o que se afirma em

- A** I, apenas.
- B** III, apenas.
- C** I e II, apenas.
- D** II e III, apenas.
- E** I, II e III.

## ÁREA LIVRE





**QUESTÃO 8**



Disponível em: <<http://www.subsoloart.com>>. Acesso em: 17 jul. 2015.

Assim como o *break*, o grafite é uma forma de apropriação da cidade. Os muros cinzentos e sujos das cidades são cobertos por uma explosão de cores, personagens, linhas, traços, texturas e mensagens diferentes. O sujo e o monótono dão lugar ao colorido, à criatividade e ao protesto. No entanto, a arte de grafitar foi, por muito tempo, duramente combatida, pois era vista como ato de vandalismo e crime contra o patrimônio público ou privado, sofrendo, por causa disso, forte repressão policial. Hoje, essa situação encontra-se bastante amenizada, pois o grafite conseguiu legitimidade como arte e, como tal, tem sido reconhecido tanto por governantes quanto por proprietários de imóveis.

SOUZA, M.L.; RODRIGUES, G.B. *Planejamento urbano e ativismo social*. São Paulo: Unesp, 2004 (adaptado).

Considerando a figura acima e a temática abordada no texto, avalie as afirmações a seguir.

- I. O grafite pode ser considerado uma manifestação artística pautada pelo engajamento social, porque promove a sensibilização da população por meio não só de gravuras e grandes imagens, mas também de letras e mensagens de luta e resistência.
- II. Durante muito tempo, o grafite foi marginalizado como arte, por ser uma manifestação associada a grupos minoritários.
- III. Cada vez mais reconhecido como ação de mudança social nas cidades, o grafite humaniza a paisagem urbana ao transformá-la.

É correto o que se afirma em

- A** II, apenas.
- B** III, apenas.
- C** I e II, apenas.
- D** I e III, apenas.
- E** I, II e III.



### QUESTÃO DISCURSIVA 3

Os resultados do trabalho da Auditoria Interna, além de constituírem algo precioso para os gestores do alto comando, fornecem recomendações corretivas e preventivas à exposição da organização face aos riscos empresariais, que podem ser de natureza sistêmica, operacional, financeira, mercadológica, de tecnologia da informação, de recursos humanos, e de fatores externos que podem impactar os resultados e estratégias globais da empresa.

Disponível em: <<http://www.portaldeauditoria.com.br>>. Acesso em: 6 ago. 2015 (adaptado).

A auditoria independente das demonstrações contábeis constitui o conjunto de procedimentos técnicos para a emissão de relatório/parecer a respeito da adequação com que estas representam a posição patrimonial e financeira, o resultado das operações, as mutações do patrimônio líquido e as origens e aplicações de recursos da entidade auditada, consoante às Normas Brasileiras de Contabilidade e a legislação específica no que for pertinente.

Disponível em: <<http://www.portaldecontabilidade.com.br>>. Acesso em: 6 ago. 2015 (adaptado).

O trabalho de auditoria contribui para o aumento da confiabilidade das informações contábeis apresentadas por uma empresa. As questões éticas devem ser observadas e respeitadas durante todo o andamento dos trabalhos.

Com base nessas informações, redija um texto dissertativo a respeito das características da auditoria interna e externa, apresentando:

- duas diferenças entre auditoria interna e externa; (valor: 4,0 pontos)
- dois tipos de relatórios/pareceres que o auditor pode emitir; (valor: 3,0 pontos)
- dois motivos para as empresas contratarem auditoria independente. (valor: 3,0 pontos)

#### RASCUNHO

1	
2	
3	
4	
5	
6	
7	
8	
9	
10	
11	
12	
13	
14	
15	





## QUESTÃO DISCURSIVA 5

Pelas características qualitativas da informação contábil-financeira útil, são identificados os tipos de informação que muito provavelmente são reputados como os mais úteis para investidores, credores por empréstimos e outros credores, existentes e em potencial, para a tomada de decisões acerca da entidade que reporta com base na informação de seus relatórios contábil-financeiros (informação contábil-financeira).

As demonstrações contábeis retratam os efeitos patrimoniais e financeiros das transações e outros eventos, por meio de seu grupamento em classes amplas de acordo com as características econômicas. Essas classes são denominadas elementos das demonstrações contábeis. Os elementos diretamente relacionados à mensuração da posição patrimonial e financeira no Balanço Patrimonial são os ativos, os passivos e o patrimônio líquido.

COMITÊ DE PRONUNCIAMENTOS CONTÁBEIS. **Estrutura Conceitual para Elaboração e Divulgação de Relatório Contábil-Financeiro**: CPC 00 (R1). Brasília, 2011 (adaptado).

Tendo como referência o exposto, suponha que uma indústria de alta tecnologia tenha descontinuado a produção de um componente eletrônico que era vendido a outras indústrias para a fabricação de microcomputadores e que a máquina instalada nessa linha de produção tenha sido concebida especialmente para fabricar esse componente. Considere, ainda, que dada a impossibilidade do uso desse componente em outras linhas de produção ou de sua venda no mercado de usados, o contador tenha baixado a máquina do ativo da empresa, cujo valor contábil na data da baixa era de R\$ 1 300 000,00.

Com base na situação apresentada, faça o que se pede nos itens a seguir.

- Justifique a decisão do contador de baixar a máquina do ativo da empresa, fundamentando-se na definição de ativo segundo as normas contábeis adotadas no Brasil. (valor: 5,0 pontos)
- Supondo que o contador não tivesse baixado a máquina do ativo, descreva a consequência para a utilidade e a qualidade das informações contábeis reportadas pela empresa. Embase sua resposta nas Características Qualitativas Fundamentais. (valor: 5,0 pontos)

RASCUNHO	
1	
2	
3	
4	
5	
6	
7	
8	
9	
10	
11	
12	
13	
14	
15	



## QUESTÃO 9 //

Um dos objetivos da Teoria Geral dos Sistemas é a formulação de princípios válidos para os sistemas em geral, independentemente dos elementos que os compõem e das relações ou forças existentes entre eles.

Considerando o exposto, avalie as asserções a seguir e a relação proposta entre elas.

- I. Um sistema é constituído por um complexo de elementos em interação.

### PORQUE

- II. Na teoria geral dos sistemas, a ênfase é dada à inter-relação e interdependência entre os componentes que formam um sistema, que é visto como uma totalidade integrada, sendo impossível estudar seus elementos isoladamente.

A respeito dessas asserções, assinale a opção correta.

- A** As asserções I e II são proposições verdadeiras, e a II é uma justificativa correta da I.
- B** As asserções I e II são proposições verdadeiras, mas a II não é uma justificativa correta da I.
- C** A asserção I é uma proposição verdadeira, e a II é uma proposição falsa.
- D** A asserção I é uma proposição falsa, e a II é uma proposição verdadeira.
- E** As asserções I e II são proposições falsas.

## ÁREA LIVRE //

## QUESTÃO 10 //

As áreas do conhecimento embasam-se em pressupostos e métodos científicos de diversas escolas de pensamento. Especificamente na área da contabilidade, as escolas de pensamento norte-americana e italiana são as principais correntes em que se fundamenta a contabilidade brasileira. Acerca dessas escolas, assinale a opção correta.

- A** A italiana enfatiza a abordagem informacional, enquanto a escola norte-americana confere grande importância à sistematização do plano de contas.
- B** A norte-americana adota a visão estabelecida pelo neopatrimonialismo, enquanto a escola italiana assume como principal foco a geração das informações contábeis para seus diversos usuários.
- C** A italiana prioriza as necessidades dos usuários das informações contábeis, enquanto a escola norte-americana demonstra excessiva preocupação em caracterizar a contabilidade como ciência.
- D** A norte-americana considera prioritário o conhecimento da teoria das contas, enquanto a escola italiana enfatiza a área de auditoria, para garantir maior confiabilidade às informações geradas.
- E** A norte-americana considera a contabilidade uma fornecedora de informações econômicas relevantes para os diversos usuários, enquanto a escola italiana defende que a contabilidade deve estudar apenas os eventos que afetam o patrimônio das entidades.

## ÁREA LIVRE //

## QUESTÃO 11

Em janeiro de 2015, uma empresa solicitou empréstimo a determinada instituição financeira para pagamento em dez meses. Foi registrado na contabilidade o valor recebido em conta do Ativo e o valor total do empréstimo em conta do Passivo. Os encargos financeiros incidentes sobre o empréstimo foram debitados em uma conta redutora do Passivo, denominada “Encargos Financeiros a Transcorrer”, tendo sido essa conta posteriormente apropriada para despesas financeiras, no resultado, à medida do tempo transcorrido.

Nessa situação, esse registro contábil dos encargos financeiros tem por base o princípio da

- A** Entidade.
- B** Prudência.
- C** Continuidade.
- D** Competência.
- E** Atualização monetária.

## QUESTÃO 12

No Brasil, as normas internacionais de contabilidade tiveram como marco regulatório as publicações da Lei nº 11.638/2007 e da Lei nº 11.941/2009, que determinaram a adoção inicial aos padrões internacionais de contabilidade nas empresas brasileiras.

Nesse sentido, a legislação societária determina que, no Balanço Patrimonial, os ativos e os passivos decorrentes de operações de longo prazo devem ser ajustados ao valor presente, e, os demais, ajustados quando houver

- A** efeito relevante.
- B** provisões de perdas.
- C** reversão de reservas.
- D** ajuste de avaliação patrimonial.
- E** teste de recuperabilidade de ativos.

## QUESTÃO 13

No quadro a seguir estão demonstradas operações com mercadorias de determinada empresa.

Data	Descrição	Quantidade	Valor unitário
2/4/2015	Compras	60	R\$ 1,50
7/4/2015	Compras	90	R\$ 1,80
25/4/2015	Vendas	?	?

Após o inventário físico, realizado em 30/4/2015, verificou-se não ter havido quebra ou perda na movimentação e observou-se que o saldo final correspondia a 20% do saldo de compras e que o preço unitário de venda do produto havia sido de R\$ 2,00. A empresa utilizou, para a avaliação de estoque, o critério denominado Custo Médio. Nessa situação, o saldo da conta Estoque e o Custo da Mercadoria Vendida (CMV), em 30/4/2015, são, respectivamente, de

- A** R\$ 50,40 e R\$ 162,00.
- B** R\$ 50,40 e R\$ 201,60.
- C** R\$ 90,00 e R\$ 50,40.
- D** R\$ 162,00 e R\$ 90,00.
- E** R\$ 162,00 e R\$ 201,60.

## ÁREA LIVRE





**QUESTÃO 14** //

Conforme o artigo 248 da Lei nº 6.404/1976, atualizado pela Lei nº 11.638/2007 e pela Lei nº 11.941/2009, os Investimentos em Controladas, Coligadas e em outras sociedades que façam parte de um mesmo grupo ou que estejam sob controle comum serão avaliados pelo Método de Equivalência Patrimonial. De acordo com legislação vigente, para a determinação do valor do investimento por esse método, aplica-se o percentual de participação no

- A** Capital Social sobre o valor do Lucro Líquido da Coligada e da Controlada, não se computando os resultados não realizados.
- B** Capital Social sobre o valor do Patrimônio Líquido da Coligada e da Controlada, somando-se a esse montante os resultados não realizados líquidos dos efeitos fiscais.
- C** Patrimônio Líquido sobre o valor do Capital Social da Coligada e da Controlada, subtraindo-se desse montante os resultados não realizados líquidos decorrentes dos efeitos fiscais.
- D** Capital Social sobre o valor do Patrimônio Líquido da investidora, subtraindo-se desse montante os resultados não realizados decorrentes de negócios com a Companhia, Coligadas ou Controladas.
- E** Capital Social sobre o valor do Patrimônio Líquido da Coligada e da Controlada, não se computando os resultados não realizados decorrentes de negócios com a Companhia, Coligadas ou Controladas.

**ÁREA LIVRE** //**QUESTÃO 15** //

As Características Qualitativas Fundamentais, previstas na Estrutura Conceitual para Elaboração e Apresentação das Demonstrações Contábeis, são a relevância e a representação fidedigna.

No que diz respeito a essas características, avalie as afirmações a seguir.

- I. A informação contábil-financeira é relevante quando capaz de fazer diferença, com valor preditivo e/ou confirmatório, nas decisões.
- II. A informação pode ser capaz de fazer diferença em uma decisão ainda que alguns usuários decidam não levá-la em consideração.
- III. Para ser representação fidedigna, a realidade retratada deve ser completa e neutra, e estar livre de erro.

É correto o que se afirma em

- A** I, apenas.
- B** II, apenas.
- C** I e III, apenas.
- D** II e III, apenas.
- E** I, II e III.

**ÁREA LIVRE** //

## QUESTÃO 16

Uma sociedade empresarial apresentou os seguintes dados referentes ao seu Balanço Patrimonial em 31/12/2014:

Contas	Saldos em 31/12/2014 (R\$)
Obras de arte	15 000,00
Móveis e Utensílios	25 000,00
Assinaturas e anuidades a apropriar	1 500,00
Mercadorias para Revenda	26 000,00
Bancos C/ Movimento	9 300,00
Móveis e Utensílios – depreciação	2 500,00
Duplicatas a Receber (para recebimento em 6 meses)	50 000,00
Empréstimos para sócios	7 500,00
Ajuste a valor presente de duplicatas a receber (para recebimento em 14 meses)	22 000,00
Duplicatas a Receber (para recebimento em 14 meses)	100 000,00
Direitos Autorais	5 100,00
Instrumentos financeiros para negociação imediata	10 000,00

Com base nos dados apresentados, conclui-se que o valor do Ativo Não Circulante em 31/12/2014 foi de

- A** R\$ 120 600,00.
- B** R\$ 128 100,00.
- C** R\$ 138 100,00.
- D** R\$ 172 100,00.
- E** R\$ 182 100,00.

## QUESTÃO 17

Uma empresa que utiliza o método de custeio de absorção para a apuração dos custos dos produtos fabricou, em determinado período, 50 000 unidades de um dos produtos de sua linha, com custo total de produção de R\$ 1 000 000,00 e custo unitário variável de R\$ 8,00. A empresa estima que, para o próximo período, haverá aumento na produção de 20% do referido produto, mantida a estrutura atual de custos, sem necessidade de modificação da capacidade de produção já instalada.

Nessa situação, dado o novo volume de produção, o custo unitário de produção, mantido o método do custeio por absorção, será de

- A** R\$ 8,00.
- B** R\$ 9,60.
- C** R\$ 18,00.
- D** R\$ 20,00.
- E** R\$ 21,60.







## QUESTÃO 19

Uma empresa fez sua projeção de vendas para janeiro, fevereiro e março do próximo ano, conforme tabela a seguir.

Orçamento de vendas			
	Jan	Fev	Mar
<b>Demanda esperada (quantidade)</b>	10 000	12 000	15 000
<b>Preço de venda (R\$)</b>	2,00	2,00	2,00
<b>Vendas Brutas (R\$)</b>	20 000,00	24 000,00	30 000,00

Suponha que todas as vendas dessa empresa sejam parceladas da seguinte forma:

- 1ª parcela (à vista), correspondente a 30% da venda;
- 2ª parcela (prazo de 30 dias), correspondente a 30% da venda;
- 3ª parcela (prazo de 60 dias), correspondente a 40% da venda.

Considerando a política de recebimento e os dados apresentados, verifica-se que a empresa espera receber, no mês de março, o montante de

- A** R\$ 8 000,00.
- B** R\$ 22 200,00.
- C** R\$ 24 200,00.
- D** R\$ 29 600,00.
- E** R\$ 30 000,00.

## ÁREA LIVRE



**QUESTÃO 20** //

De acordo com as Normas Brasileiras de Contabilidade Aplicadas ao Setor Público (NBCASP), as Demonstrações Contábeis devem ser elaboradas e publicadas pelos entes da Federação, de modo a permitir e evidenciar a consolidação das contas públicas em âmbito nacional.

A partir dessas informações, avalie as afirmações a seguir.

- I. O Balanço Orçamentário deve demonstrar as receitas e despesas previstas, em confronto com as realizadas.
- II. O Balanço Financeiro deve evidenciar as receitas e despesas orçamentárias, bem como os ingressos e dispêndios extraorçamentários, conjugados com os saldos de caixa do exercício anterior e os que se transferem para o início do exercício seguinte.
- III. A Demonstração das Variações Patrimoniais deve evidenciar as alterações verificadas no patrimônio, resultantes ou independentes da execução orçamentária, e indicar o resultado patrimonial do exercício.
- IV. A Demonstração dos Fluxos de Caixa permite a análise da capacidade da entidade de gerar caixa e equivalentes de caixa, e a análise da utilização de recursos próprios e de terceiros em suas atividades.

É correto o que se afirma em

- A** I, apenas.
- B** I e II, apenas.
- C** III e IV, apenas.
- D** II, III e IV, apenas.
- E** I, II, III e IV.

**QUESTÃO 21** //

Tendo por base as Normas Brasileiras de Contabilidade Aplicadas ao Setor Público (NBC T 16.1 — Conceituação, Objeto e Campo de Aplicação), avalie as afirmações a seguir.

- I. A Contabilidade Aplicada ao Setor Público é o ramo da ciência contábil que aplica, no processo gerador de informações, os princípios de contabilidade e as normas contábeis direcionados ao controle patrimonial de entidades do setor público.
- II. O Patrimônio Público é o conjunto de direitos e bens, tangíveis ou intangíveis, onerados ou não, adquiridos, formados, produzidos, recebidos, mantidos ou utilizados pelas entidades do setor público, que porte ou represente um fluxo de benefícios, presente ou futuro, inerente à prestação de serviços públicos ou à exploração econômica por entidades do setor público e suas obrigações.
- III. O objeto da Contabilidade Aplicada ao Setor Público é o Patrimônio Público.
- IV. O campo de aplicação da Contabilidade Aplicada ao Setor Público restringe-se aos órgãos da administração direta.

É correto apenas o que se afirma em

- A** I e II.
- B** II e IV.
- C** III e IV.
- D** I, II e III.
- E** I, III e IV.

**ÁREA LIVRE** //

## QUESTÃO 22

As informações apresentadas no balancete a seguir dizem respeito à execução orçamentária e financeira de determinado ente federativo, no que se refere à mensuração e à execução do orçamento público.

### Balancete de Verificação Resumido (em R\$) – exercício de 2014

Inversões Financeiras	R\$ 5 000,00
Receita Agropecuária	R\$ 3 000,00
Pessoal e Encargos Sociais	R\$ 8 000,00
Receita Industrial	R\$ 3 500,00
Transferências de Capital	R\$ 2 000,00
Amortização de Empréstimos	R\$ 6 000,00
Amortização da Dívida	R\$ 3 800,00
Alienação de Bens	R\$ 5 000,00
Investimentos	R\$ 9 000,00
Receita Patrimonial	R\$ 2 800,00
Juros e Encargos da Dívida	R\$ 5 000,00
Transferências Correntes	R\$ 5 000,00
Receitas de Impostos	R\$ 5 000,00
Operações de Crédito	R\$ 3 000,00
Receitas de Contribuições de Melhorias	R\$ 2 000,00
Outras Despesas Correntes	R\$ 6 500,00

Pelas informações apresentadas no balancete, conclui-se que, ao final do exercício financeiro de 2014, o valor das Receitas Correntes e das Despesas de Capital foram, respectivamente, de

- A** R\$ 37 300,00 e R\$ 37 300,00.
- B** R\$ 16 000,00 e R\$ 19 500,00.
- C** R\$ 18 500,00 e R\$ 14 000,00.
- D** R\$ 21 300,00 e R\$ 17 800,00.
- E** R\$ 12 000,00 e R\$ 19 500,00.



**QUESTÃO 23** //

O objetivo principal da auditoria é atribuir maior grau de confiabilidade às demonstrações financeiras das empresas. No processo de obtenção de evidências para o trabalho de auditoria, o auditor pode solicitar confirmações externas, conforme trata a NBC TA 505 (Confirmações Externas). Essas confirmações visam auxiliar a auditoria no processo de elaboração de seu relatório em torno das demonstrações financeiras da empresa auditada.

Com base nessas informações, avalie as afirmações a seguir.

- I. A evidência de auditoria obtida de fontes internas, que representarão as informações reportadas nos relatórios financeiros, é mais confiável que as obtidas de fontes externas.
- II. A administração pode não autorizar o envio de solicitações de confirmação pelo auditor.
- III. Caso as partes respondam as confirmações solicitadas pelo auditor, este deve julgá-las como evidência de auditoria relevante e confiável, não sendo necessárias outras evidências de auditoria.
- IV. Caso não receba a resposta de solicitação enviada anteriormente, o auditor deve descartar a evidência de auditoria da parte não respondente, não sendo possível enviar nova solicitação de confirmação.
- V. As respostas recebidas eletronicamente (por meio de fax ou correio eletrônico) envolvem riscos relacionados à confiabilidade, podendo ocorrer dificuldades em estabelecer a prova de origem e autoridade da parte que confirma o recebimento e a identificação de alterações.

É correto apenas o que se afirma em

- A** II e IV.
- B** II e V.
- C** I, III e V.
- D** I, II, III e IV.
- E** I, III, IV e V.

**QUESTÃO 24** //

O planejamento da perícia é a etapa do trabalho pericial que antecede as diligências, pesquisas, cálculos e respostas aos quesitos. Nessa etapa, o perito do juízo estabelece a metodologia dos procedimentos periciais a serem aplicados, elaborando-a a partir do conhecimento do objeto da perícia.

CONSELHO FEDERAL DE CONTABILIDADE. **NBC TP 01:**  
perícia contábil. Brasília, 2015.

Entre os objetivos do planejamento da perícia, inclui-se

- I. conhecer o objeto e a finalidade da perícia, a fim de permitir a adoção de procedimentos que conduzam à revelação da verdade.
- II. definir a natureza, a oportunidade e a extensão dos procedimentos a serem aplicados, em consonância com o objeto da perícia.
- III. identificar fatos importantes para a solução da demanda, de forma que não passem despercebidos ou não recebam a atenção necessária.

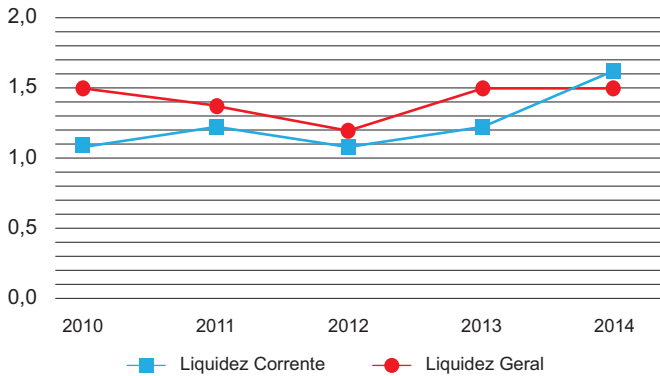
É correto o que se afirma em

- A** I, apenas.
- B** II, apenas.
- C** I e III, apenas.
- D** II e III, apenas.
- E** I, II e III.

**ÁREA LIVRE** //

## QUESTÃO 25

O gráfico a seguir representa a situação de liquidez de determinada empresa de 2010 a 2014, com os valores dos indicadores de liquidez corrente e geral, para esse período.



Com base no gráfico, avalie as afirmações a seguir.

- I. A empresa apresentou folga financeira de curto prazo de 2010 a 2014.
- II. Há tendência de melhora da liquidez corrente para 2015.
- III. Há indícios de que, em 2014, a empresa tenha trocado dívidas de longo prazo por dívidas de curto prazo, ou de que recursos recebíveis a curto prazo passaram a ser recebíveis a longo prazo.

É correto o que se afirma em

- A** I, apenas.
- B** III, apenas.
- C** I e II, apenas.
- D** II e III, apenas.
- E** I, II e III.

## ÁREA LIVRE

## QUESTÃO 26

Uma empresa optou pelo desconto do imposto de renda com base no lucro presumido no primeiro trimestre de 2015. Da escrituração contábil foram extraídas as informações a seguir.

Receita Bruta de Vendas de Mercadorias	R\$ 500 000,00
Receita Bruta de Serviços	R\$ 100 000,00
Juros Ativos	R\$ 10 000,00
Juros Passivos	R\$ 20 000,00

Sabendo-se que os índices utilizados para o cálculo do lucro presumido são de 8% sobre a venda de mercadorias e de 32% sobre a prestação de serviços, o valor da base de cálculo do lucro presumido é de

- A** R\$ 102 000,00.
- B** R\$ 92 000,00.
- C** R\$ 82 000,00.
- D** R\$ 72 000,00.
- E** R\$ 62 000,00.

## ÁREA LIVRE

## QUESTÃO 27

O gestor de determinada empresa preparou os cálculos de análise vertical do grupo do ativo circulante para serem discutidos em uma reunião, conforme demonstra o quadro a seguir.

	31/12/2013	AV	31/12/2014	AV
<b>Ativo Circulante Total</b>	<b>R\$ 4 089 000,00</b>	<b>100%</b>	<b>R\$ 4 159 000,00</b>	<b>100%</b>
Caixa e Equivalentes de Caixa	R\$ 204 450,00	5%	R\$ 207 950,00	5%
Aplicações Financeiras	R\$ 613 350,00	15%	R\$ 623 850,00	15%
Contas a Receber de Clientes	R\$ 1 063 140,00	26%	R\$ 1 455 650,00	35%
Juros de Capital Próprio a Receber	R\$ 163 560,00	4%	R\$ 41 590,00	1%
Estoques	R\$ 858 690,00	21%	R\$ 831 800,00	20%
Ativos Biológicos	R\$ 449 790,00	11%	R\$ 374 310,00	9%
Impostos a Recuperar	R\$ 490 680,00	12%	R\$ 249 540,00	6%
Ativos Mantidos para a Venda	R\$ 40 890,00	1%	R\$ 83 180,00	2%
Outros Ativos Financeiros	R\$ 81 780,00	2%	R\$ 124 770,00	3%
Outros Direitos	R\$ 122 670,00	3%	R\$ 166 360,00	4%

Após efetuar os cálculos, o gestor da empresa apresentou as análises a seguir.

- I. A queda de 3% da conta Juros de Capital Próprio a Receber foi da ordem de R\$ 121 970,00, podendo ser interpretada como recebimento desses direitos. Não se pode garantir, apenas por essa análise vertical, que essa diminuição represente maior fator de liquidez para a empresa.
- II. No exercício de 2014, essa empresa apresentou variação de 9% na conta Contas a Receber de Clientes com um aumento de R\$ 392 510,00. Para se considerar esse aumento favorável, seria mais prudente analisar uma série maior de anos anteriores.
- III. O Caixa e Equivalentes de Caixa da empresa se mantiveram em 5% do montante do Ativo Circulante, tendo apresentado um crescimento da ordem de R\$ 3 500,00, o que provocou uma queda real de potencial de recursos disponíveis.

É correto o que se afirma em

- A** II, apenas.
- B** III, apenas.
- C** I e II, apenas.
- D** I e III, apenas.
- E** I, II e III.



## QUESTÃO 28

No quadro a seguir, estão demonstradas as estruturas de capital de duas empresas, A e B, do mesmo ramo de atividade, que apresentam Lucro Antes dos Juros e Imposto de Renda (LAJIR) de R\$ 14 000,00 e Ativos Totais de R\$ 100 000,00, tendo sido de 34%, para ambas, a alíquota do Imposto de Renda.

Fontes de Financiamento	Empresa A		Empresa B	
	Taxa de Juros	Capital (R\$)	Taxa de Juros	Capital (R\$)
Empréstimo Banco X	14%	10 000,00	16%	20 000,00
Financiamento BNDES	12%	40 000,00	11%	50 000,00
Debêntures	9%	20 000,00	13%	10 000,00
Capital Próprio		30 000,00		20 000,00
Total		100 000,00		100 000,00

Com base nessas informações, avalie as afirmações a seguir.

- O Custo Médio de Capital de Terceiros da empresa A é inferior ao da empresa B.
- O Retorno sobre o Patrimônio Líquido (ROE) da empresa A é igual ao da empresa B.
- O risco financeiro da empresa A, cuja estrutura é mais dependente de capitais de terceiros, é maior que o da empresa B.

É correto o que se afirma em

- I, apenas.
- III, apenas.
- I e II, apenas.
- II e III, apenas.
- I, II e III.

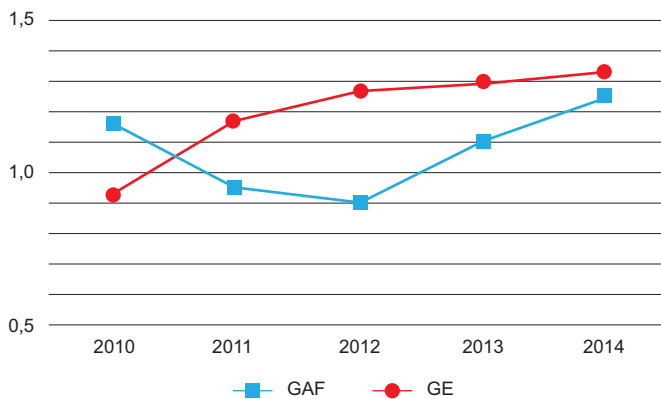
## ÁREA LIVRE





## QUESTÃO 29

O gráfico a seguir ilustra a situação de alavancagem financeira e de endividamento de uma empresa, de 2010 a 2014, estando nele representados o Grau de Alavancagem Financeira (GAF) e o Grau de Endividamento (GE). O quociente de GAF e GE é a razão do capital de terceiros sobre o patrimônio líquido.



Com base nesse gráfico, avalie as afirmações a seguir.

- I. De 2012 a 2014, o aumento do endividamento produziu alavancagens do patrimônio líquido.
- II. De 2011 a 2012, o retorno do capital próprio foi menor que o retorno dos ativos.
- III. De 2012 a 2014, nota-se aceleração do GAF em relação ao GE, efeito que pode ser resultado de captações de recursos de terceiros com juros cada vez menores.

É correto o que se afirma em

- A I, apenas.
- B III, apenas.
- C I e II, apenas.
- D II e III, apenas.
- E I, II, III.

## QUESTÃO 30

Projeções futuras baseadas em teorias probabilísticas são frequentemente utilizadas na contabilidade. Os setores públicos e privados fazem previsões orçamentárias anuais e, até mesmo, plurianuais para estimarem suas receitas e fixarem suas despesas. Nesse contexto, considere a seguinte situação hipotética.

Uma empresa que atua no ramo de locação de automóveis, pretendendo projetar seu orçamento para o próximo semestre, deve analisar a tabela a seguir, fornecida pelo departamento de estatística, que evidencia a quantidade de automóveis que a empresa locou no primeiro semestre de 2015. Os dados foram obtidos por meio de pesquisa cadastral feita com 100 clientes escolhidos de forma aleatória.

Quantidade de vezes que aluga carro no semestre (xi)	Frequência de clientes (fi)
1	10
2	20
3	20
4	40
5	10
Total	100

Nessa situação, os valores da média, moda e mediana da quantidade de vezes que os clientes alugam carros no semestre são, respectivamente, iguais a

- A 3,2; 4,0; 3,5.
- B 3,2; 4,0; 3,0.
- C 3,2; 3,5; 4,0.
- D 3,0; 3,5; 4,0.
- E 3,0; 4,0; 3,5.



## Texto para as questões 31 e 32

O Código de Ética Profissional do Contador, aprovado em 1970, representou o alcance de uma importante meta. Com a consolidação e o amadurecimento da profissão, a atualização de conceitos éticos na área e o diálogo intenso com os diversos segmentos da comunidade contábil, após 26 anos, a Resolução CFC nº 290/1970 foi revogada pela Resolução CFC nº 803/1996, que aprova o Código de Ética Profissional do Contador vigente até os dias atuais.

### QUESTÃO 31

Considerando o Código de Ética vigente, avalie as afirmações a seguir.

- I. Não é permitido ao profissional da Contabilidade oferecer serviços profissionais mediante aviltamento de honorários.
- II. É permitido ao profissional da Contabilidade transferir, parcialmente, a outro profissional, a execução dos serviços a seu cargo, mantendo como sua a responsabilidade técnica dos serviços.
- III. É permitido ao profissional da Contabilidade publicar, em seu nome, trabalho científico ou técnico do qual tenha participado.

É correto o que se afirma em

- A** I, apenas.
- B** II, apenas.
- C** I e III, apenas.
- D** II e III, apenas.
- E** I, II e III.

### QUESTÃO 32

Considerando as determinações previstas nesse código, avalie as condutas descritas a seguir.

- I. Um profissional contador que atua como perito foi indicado para emitir laudo de apuração de haveres. No entanto, por não se considerar capacitado para a tarefa, decidiu recusar o convite.
- II. Um profissional contador que atua como consultor recomendou a seus clientes, proprietários de microempresas ou de grandes empresas, que mantivessem escrituração contábil regular.
- III. Um profissional contador que atua como auditor decidiu não participar de eventos relacionados a educação continuada, cursos, congressos, nem de quaisquer outros eventos relacionados à atualização profissional.

O código de ética está em consonância com a(s) conduta(s) profissional(is) descrita(s) em

- A** I, apenas.
- B** III, apenas.
- C** I e II, apenas.
- D** II e III, apenas.
- E** I, II e III.

### ÁREA LIVRE



**QUESTÃO 33** //

Um perito contador precisa calcular os juros moratórios sobre uma verba em liquidação de sentença no valor de R\$ 96 000,00. O juiz determinou a incidência de juros simples de 0,5% ao mês, no período de 1/2/2015 a 30/9/2015.

Nessa hipótese, considerando-se o mês comercial de 30 dias, o total de juros será de

- A** R\$ 3 360,00.
- B** R\$ 3 840,00.
- C** R\$ 4 320,00.
- D** R\$ 4 800,00.
- E** R\$ 5 280,00.

**ÁREA LIVRE** //**QUESTÃO 34** //

Uma empresa vende seu produto ao preço de R\$ 7,00 a unidade. Os relatórios financeiros apresentam Custo variável unitário de R\$ 2,00 e Custo e Despesas Fixas de R\$ 150 000,00, sendo a alíquota do Imposto de Renda igual a 30%. Nessa situação, para obter um lucro líquido de R\$ 31 500,00, a empresa deverá vender o correspondente a

- A** R\$ 273 000,00.
- B** R\$ 210 000,00.
- C** R\$ 195 000,00.
- D** R\$ 150 000,00.
- E** R\$ 78 000,00.

**ÁREA LIVRE** //

## QUESTÃO 35

Suponha que uma empresa tenha demitido um empregado em 30/09/2014, que havia sido admitido em 10/01/2014 e recebia salário líquido de R\$ 1 200,00, tendo recebido, assim como os demais empregados, antecipação de 50% do 13º salário em 30/06/2014.

Nessa situação, com base nas normas que regem as relações de trabalho entre empregador e empregado no Brasil, o valor total a ser pago pela empresa ao empregado demitido será de

- A** R\$ 1 366,66.
- B** R\$ 1 500,00.
- C** R\$ 1 600,00.
- D** R\$ 1 666,66.
- E** R\$ 2 700,00.

## ÁREA LIVRE



## QUESTIONÁRIO DE PERCEPÇÃO DA PROVA

As questões abaixo visam levantar sua opinião sobre a qualidade e a adequação da prova que você acabou de realizar. Assinale as alternativas correspondentes à sua opinião nos espaços apropriados do Caderno de Respostas.

### QUESTÃO 1

Qual o grau de dificuldade desta prova na parte de Formação Geral?

- A Muito fácil.
- B Fácil.
- C Médio.
- D Difícil.
- E Muito difícil.

### QUESTÃO 2

Qual o grau de dificuldade desta prova na parte de Componente Específico?

- A Muito fácil.
- B Fácil.
- C Médio.
- D Difícil.
- E Muito difícil.

### QUESTÃO 3

Considerando a extensão da prova, em relação ao tempo total, você considera que a prova foi

- A muito longa.
- B longa.
- C adequada.
- D curta.
- E muito curta.

### QUESTÃO 4

Os enunciados das questões da prova na parte de Formação Geral estavam claros e objetivos?

- A Sim, todos.
- B Sim, a maioria.
- C Apenas cerca da metade.
- D Poucos.
- E Não, nenhum.

### QUESTÃO 5

Os enunciados das questões da prova na parte de Componente Específico estavam claros e objetivos?

- A Sim, todos.
- B Sim, a maioria.
- C Apenas cerca da metade.
- D Poucos.
- E Não, nenhum.

### QUESTÃO 6

As informações/instruções fornecidas para a resolução das questões foram suficientes para resolvê-las?

- A Sim, até excessivas.
- B Sim, em todas elas.
- C Sim, na maioria delas.
- D Sim, somente em algumas.
- E Não, em nenhuma delas.

### QUESTÃO 7

Você se deparou com alguma dificuldade ao responder à prova. Qual?

- A Desconhecimento do conteúdo.
- B Forma diferente de abordagem do conteúdo.
- C Espaço insuficiente para responder às questões.
- D Falta de motivação para fazer a prova.
- E Não tive qualquer tipo de dificuldade para responder à prova.

### QUESTÃO 8

Considerando apenas as questões objetivas da prova, você percebeu que

- A não estudou ainda a maioria desses conteúdos.
- B estudou alguns desses conteúdos, mas não os aprendeu.
- C estudou a maioria desses conteúdos, mas não os aprendeu.
- D estudou e aprendeu muitos desses conteúdos.
- E estudou e aprendeu todos esses conteúdos.

### QUESTÃO 9

Qual foi o tempo gasto por você para concluir a prova?

- A Menos de uma hora.
- B Entre uma e duas horas.
- C Entre duas e três horas.
- D Entre três e quatro horas.
- E Quatro horas, e não consegui terminar.





ÁREA LIVRE

---



**ENADE 2015**

EXAME NACIONAL DE DESEMPENHO DOS ESTUDANTES



**ENADE 2015**

EXAME NACIONAL DE DESEMPENHO DOS ESTUDANTES

**INEP**

**Ministério  
da Educação**

